

1. SINIF TEMEL DERSLER ÇALIŞMA KAĞIDI

TÜRKÇE

HAYAL BULUTLARI

Çağla Öğretmen, öğrencileri ile resim yapmayı çok sever. Her biri birbirinden güzel resimler yapar. Çağla Öğretmen, her sanat etkinliğinden sonra yapılan resimleri toplar sınıfın dört bir yanına asar. İlayda, en çok evlerinin bahçesindeki meyve ağaçlarını çizmeyi sever. Melek, en çok kedisi Kömür'ü çizer. Sezgin, gökyüzünde parıl parıl parlayan yıldızları çizer. Ela, masmavi denizlerdeki balıkların resimlerini yapar. Sinem ise gökyüzündeki bulutları çizer.

Çocuklar Sinem'in çizdiği bulutları çok severler. Bir araya gelip, bulutları başka şeylere benzetirler. Onları bazen koyuna bazen bir kalbe bazen de dev bir ejderhaya benzetirler. Bu yüzden Çağla Öğretmen bu resimlere "Hayal Bulutları" der. Sinem'in hayal bulutları çocukların hayal dünyasını geliştirir. Hep birlikte farklı hayaller kurarlar.

Aşağıdaki soruları yukarıdaki metne göre cevaplayınız.

1. Çağla Öğretmen ve öğrencileri ne yapmayı severler?

2. Sınıfta kimler resim yapıyor?

3. Çağla Öğretmen, resimleri nereye asıyor?

4. Sınıftakiler bulutları nelere benzetirler?

5. Çağla Öğretmen, Sinem'in bulutlarına ne isim vermiş?

Aşağıdaki ifadeleri uygun kelimelerle eşleştirerek anlamlı cümleler oluşturunuz.

A	Annem pasta
B	Ceren eve
C	Sabah süt
D	İlkbaharda havalar sıcak

	geldi
	olur
	aldı
	içtim

Aşağıdaki sözcüklerin baş harfleri unutulmuş. İnsan, şehir ve ülke adları büyük harfle, diğerlerini küçük harfle başlayacak şekilde örnekteki gibi yazınız.

T	ü	r	k	i	y	e
	a	l	e	m		
	i	t	a	p		
	a	r	d	i	n	
	ı	n	ı	f		

c	e	v	i	z
e	h	m	e	t
a	r	d	e	ş
		n	n	e
n	k	a	r	a

NOKTALAMA İŞARETLERİ

Aşağıdaki cümlelerin sonuna uygun noktalama işaretlerini koyunuz.

Bugün annemle pazara gittik()

Ödevlerini bitirdin mi()

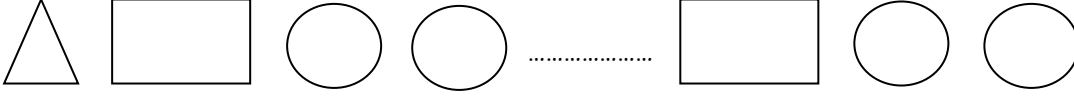
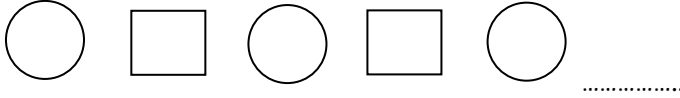
Yaşasın() Yarın sinemaya gideceğiz()

Okullar ne zaman açılacak()

Marketten peynir() zeytin ve yoğurt aldık()

GEOMETRİK ÖRÜNTÜLER

Aşağıdaki örüntülerde noktalı yerlere gelmesi gereken şekilleri çizin.



Aşağıdaki örüntüleri kuralına uygun olarak devam ettiriniz.



GEOMETRİK ÖRÜNTÜLER

Geometrik şekiller ile verilen kurallara uygun örüntüler oluşturunuz.



Kural: 1 çember, 2 üçgen



Kural: 1 kare, 1 çember, 1 üçgen

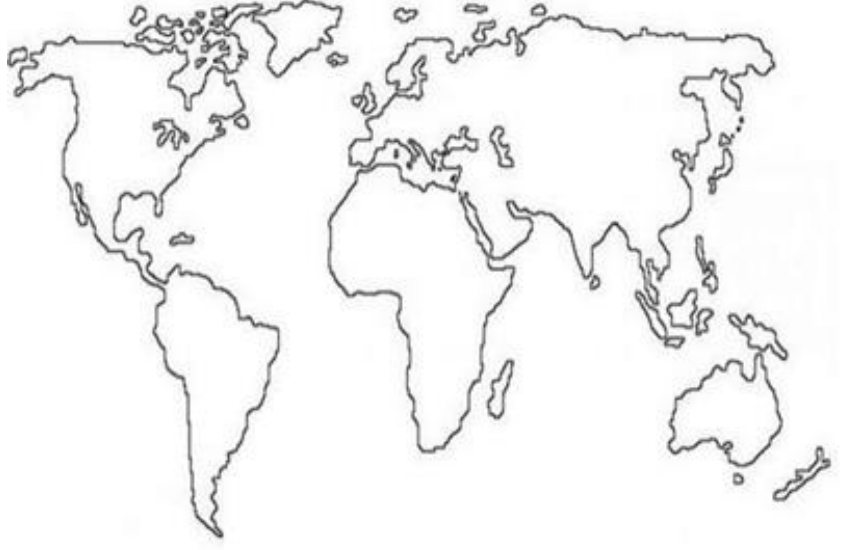


Kural: 2 üçgen, 1 dikdörtgen



ÜLKEMİZ

Ülkemize ait görseli dünya haritasındaki yerine ok ile çizerek götürünüz.



FARKLI KÜLTÜRLER

Aşağıdaki ifadelerden doğru olanların başına "D", yanlış olanların başına "Y" yazınız.

- Farklı kültürdeki insanlara karşı hoşgörülü olmalıyız.
- Ülkemize göç etmiş insanlar vardır.
- Farklı kültüre sahip kişilerden uzak durmak gerekir.
- Bazı insanlar savaş yüzünden ülkemize göç etmişlerdir.
- Aynı dili konuşmadığımız insanlar ile oynamamalıyız.



Merhaba, ben Şaha. Ülkemizde savaş çıktığı için Irak'tan Türkiye'ye göç ettik. Sizinle bazı ortak özelliklerimiz var. Sizinle ortak olmayan özelliklerimizin bulunduğu kutucukları yeşile boyar mısınız?

ana dilimiz

yemeklerimiz

oyunlarımız